
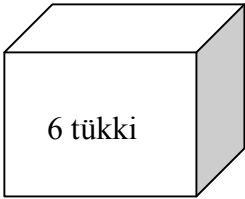
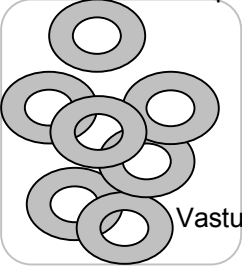


<p style="text-align: right;">1</p> <p>Peres on neli last. Isa andis igale lapsele 3 õuna. Mitu õuna andis isa lastele?</p> <p style="text-align: center;">..... x ..... = .....</p> <p>Vastus: Isa andis lastele ..... õuna.</p>	<p style="text-align: right;">2</p> <p>Krista ostis poest 3 pakki nätsu. Igas pakis on 8 nätsu. Mitu nätsu on Kristal kokku?</p> <p style="text-align: center;">..... x ..... = .....</p> <p>Vastus: Kristal on kokku ..... nätsu.</p>
<p style="text-align: right;">3</p> <p>Kooli kokatädi Mari ostis poest 9 karpil mune. Mitu muna ostis Mari kokku?</p> <p style="text-align: center;">..... x ..... = .....</p> <p>Vastus: Mari ostis ..... muna.</p> 	<p style="text-align: right;">4</p> <p>Taavil kulub koolist koju jõudmiseks 7 minutit. Paulil kulub koju jõudmiseks aga neli korda rohkem aega. Kui palju aega kulub Paulil koju jõudmiseks?</p> <p style="text-align: center;">..... x ..... = .....</p> <p>Vastus: Paulil kulub koju jõudmiseks ..... minutit.</p>
<p style="text-align: right;">5</p> <p>Kalle käib trennis kaks korda nädalas. Mairika käib trennis kaks korda sagedamini? Mitu korda nädalas käib Mairika trennis?</p> <p style="text-align: center;">..... x ..... = .....</p> <p>Vastus: Mairika käib nädalas trennis ..... korda.</p>	<p style="text-align: right;">6</p> <p>Õpetaja ostis 10 karpil värvilisi pliiatseid. Üks karp maksis 2 eurot. Kui palju raha õpetaja kulutas?</p> <p style="text-align: center;">..... x ..... = .....</p> <p>Vastus: Õpetaja kulutas ..... eurot.</p>
<p style="text-align: right;">7</p> <p>Ühel riiulil on kuus raamatut. Teisel riiulil on kolm korda rohkem raamatuid. Mitu raamatut on teisel riiulil?</p> <p style="text-align: center;">..... x ..... = .....</p> <p>Vastus: Teisel riiulil on ..... raamatut.</p>	<p style="text-align: right;">8</p> <p>Kool tellis 8 kasti jogurtit. Mitu jogurtit tellis kool kokku?</p> <p style="text-align: center;">..... x ..... = .....</p> <p>Vastus: Kool tellis ..... jogurtit.</p> 
<p style="text-align: right;">9</p> <p>Liisu ostis poest 5 pakki juukseumme. Mitu juukseummi on Liisul kokku?</p> <p style="text-align: center;">..... x ..... = .....</p> <p>Vastus: Liisul on ..... juukseummi.</p> 	<p style="text-align: right;">10</p> <p>Jaanil on 4 mänguautot. Juhanil on mänguautosid neli korda rohkem. Mitu mänguautot on Juhanil?</p> <p style="text-align: center;">..... x ..... = .....</p> <p>Vastus: Juhanil on ..... mänguautot.</p>